

# ВСЕРОССИЙСКАЯ ОЛИМПИАДА ШКОЛЬНИКОВ ПО ИСТОРИИ

Предлагаем нашим читателям материалы Всероссийской олимпиады по истории — задания первого тура для 9 класса.

Максимальная оценка — 100 баллов.


Время на подготовку — 3 часа.

1. Верно ли, что:

1. На месте современного Орла проживало славянское племя кривичей?
2. Город Орел был основан Иваном IV?
3. В разные периоды своей истории Орел входил в состав Киевской и Белгородской губерний?
4. Орел получил статус центра губернии по указу Петра I?
5. Первый план строительства Орла был утвержден при Екатерине II?
6. Усадьба Ивана Сергеевича Тургенева Спасское-Лутовиново стала музеем еще при жизни великого писателя?
7. Орел стал вторым после Киева городом Российской империи, где было открыто трамвайное движение?
8. Орел был освобожден от фашистской оккупации в результате наступательной операции «Багратион»?



**Спасское-Лутовиново.** Современная фотография.  
Усадьба И.С. Тургенева



**Герб города Орла.**

В 1988 г. был создан герб города Орла, за основу которого взят исторический герб 1781 г., имеющий следующее описание: «В синем поле белый город, на воротах которого черный одноглавый орел». Однако в его описании с орла «сняли» корону и сделали его более схематичным

9. В честь освобождения Орла и Белгорода 5 августа 1943 г. был произведен первый в истории Великой Отечественной войны салют?

10. Современный герб Орла отличается от дореволюционного тем, что с орла «снята» корона?

Ответ оформите в виде таблицы.

Верно	Неверно



**Отъезд крестьянина от помещика в Юрьев день.** Художник С.В. Иванов.

Осенний Юрьев день, 26 ноября по старому стилю (9 декабря по новому стилю), — дата, с которой связывалось осуществление права перехода крестьян от феодала к феодалу. Право перехода крестьян было отменено с введением Соборного Уложения 1649 г. В связи с этим в народе появилась поговорка «Вот тебе, бабушка, и Юрьев день!»

2. Определите, какие из этих понятий связаны с историей города Орла. Выпишите номера правильных ответов.

1. Первый русский фрегат «Орел»
2. Орловский кадетский корпус
3. Порода орловских рысаков
4. Орлянка, азартная игра
5. Сорт яблок «Синап орловский»
6. Орловский пехотный полк
7. Орлец, элемент православного богослужения
8. Созвездие Орла
9. Орловско-Курская операция
10. Орловский бой

3. Объясните фразеологизмы, вошедшие в русский язык в предыдущие столетия и имеющие историческое значение, и попытайтесь ответить на следующие вопросы.

1. Реакцией на какие события явилась эта пословица (поговорка)? Когда произошли эти события?

2. Какое значение эта пословица (поговорка) имеет в современном русском языке? В каком смысле и в каких ситуациях употребляется?

- А. Верста коломенская.
- Б. Вот тебе, бабушка, и Юрьев день!
- В. Потемкинские деревни.

4. Определите, какие из этих понятий встречаются в перечисленных памятниках древнерусского права. Поставьте знак «+» в соответствующей графе таблицы. (Таблицу смотри внизу.)

5. Расставьте города по порядку появления в них железной дороги.

1. Нижний Новгород
2. Санкт-Петербург
3. Москва
4. Киев
5. Владивосток

Понятия	Краткая Русская Правда	Пространная Русская Правда	Судебник Ивана Грозного	Соборное Уложение
Мстить (кровная месть)				
Поле (судебный поединок)				
Закуп				
Холоп				
Боярин				
Пожилое				
Поместье				

6. По какому принципу образованы ряды? Дайте краткий конкретный ответ. Вычеркните лишний элемент в каждом ряду. Дайте краткое конкретное объяснение.

1. Операция «Концерт», Ясско-Кишиневская операция, Корсунь-Шевченковская операция, Львовско-Сандомирская операция

2. Г.И. Янаев, В.С. Павлов, В.А. Крючков, А.А. Громыко, Д.Т. Язов

3.

4.



А



Б



Д



А



Б



В



Г



В



Г

7. Заполните пропуски, обозначенные знаком (?).

«Ленинградская поэма» О.Ф. Бергольц — блокада Ленинграда;

«В списках не значился» Б.Л. Васильева — (?);

«Волоколамское шоссе» А.А. Бека — (?);

«Жизнь и судьба» В.С. Гроссмана — (?);

«Зоя» М.И. Алигер — подвиг Зои Космодемьянской;

«Повесть о настоящем человеке» Б.Н. Полевого — (?).

8. Распределите заключенные договоры по векам. Ответы внесите в таблицу.

1. Яжелбицкий мир
2. Поляновский мир
3. Вечный мир с Польшей

4. Деулинское перемирие

5. Абосский мир

6. Константинопольское соглашение

7. Беловежские соглашения

8. Нерчинский договор

9. Кючук-Кайнарджийский мир

10. Фридрихсгамское соглашение

11. Рапвальский договор

12. Брестский мир

13. Парижский мир

14. Айгунский мир

15. Гюлистанский мир

16. Верельский мир

17. Ям-Запольский мир

18. Столбовский мир

19. Портсмутский мир

20. Рижский мир

XV в.	XVI в.	XVII в.	XVIII в.	XIX в.	XX в.

9. Перед вами — книжные миниатюры, изображающие различные события, относящиеся к периоду централизации русских земель. Назовите события, отображенные авторами, и приведите обоснование своего выбора. Расположите все изображения в хронологическом порядке. Ответы без аргументации учитываться не будут.



Даты	Изображения	События	Обоснование

10. Ученик решил собрать коллекцию марок, посвященных освоению космоса. Однако его подвело плохое знание истории: в коллекцию попало несколько поддельных марок. Помогите филателисту отличить подделки от подлинников. Свой ответ в обязательном порядке аргументируйте.

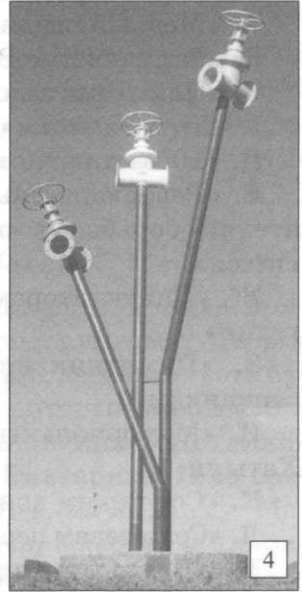


№ марки	Подлинник или подделка	Аргументация



11	12
----	----



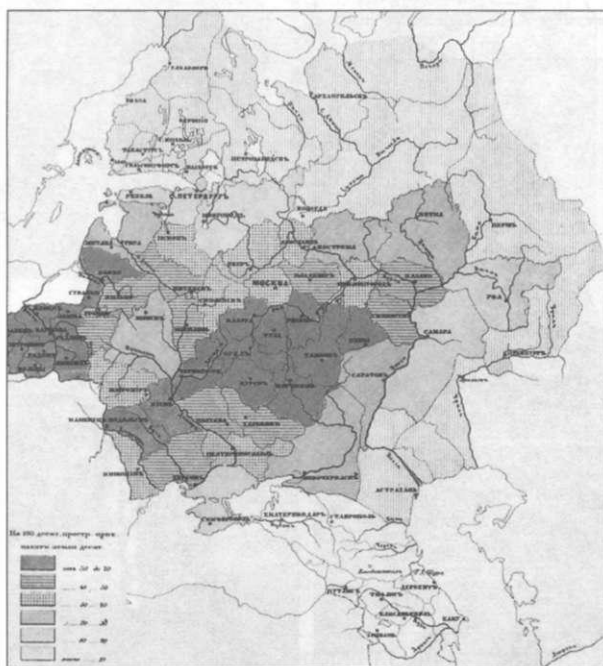
11. Перед вами 14 памятников, расположенных на территории России, Беларуси и Украины. Соотнесите памятники, их названия и даты их возведения (обращаем ваше внимание на то, что одна дата может относиться к нескольким памятникам). Обоснуйте свой ответ и заполните таблицу.



Даты открытия:  
1782; 1862; 1905; 1912; 1914–1918;  
1958; 1969; 1983; 1997; 2004; 2005; 2006;  
2009.

Названия памятников:

- А. «Медный всадник»
- Б. «Тысячелетие России»
- В. «Памятник затопленным кораблям»
- Г. «Дружба навек»
- Д. «100 лет радио»
- Е. «Революционным мыслителям и деятелям борьбы за освобождение трудящихся»
- Ж. «Ликвидаторам чернобыльской трагедии»
- З. «Памятник псковским воинам-десантникам»
- И. «Мемориальный комплекс жертвам Хатыни»
- К. «Советским воинам-«афганцам»
- Л. «Создателям первого спутника Земли»
- М. «Благодарная Россия — своим защитникам»
- Н. «Первому российскому водопроводу»
- О. «Памятник графу Ивану Шувалову»



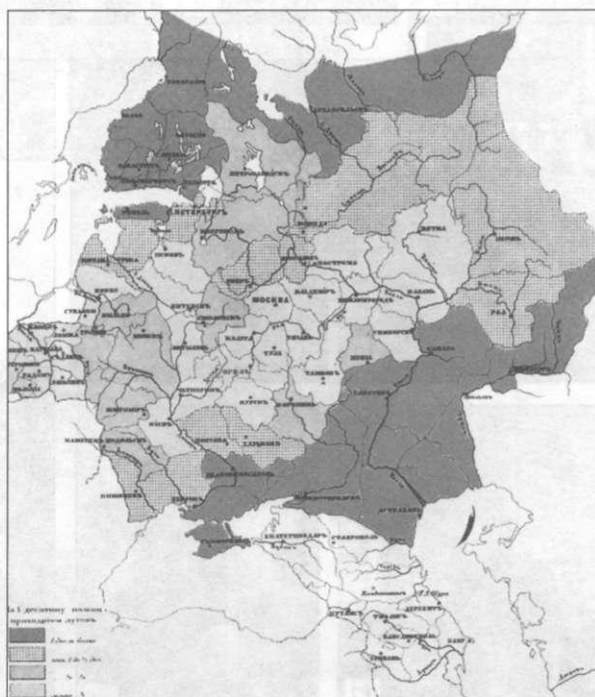
Количество пахотной земли в расчете на 100 десятин общей площади

№ памятника	Название (буква)	Дата	Обоснование ответа

12. Перед вами — ряд карт из статистических атласов середины XIX в.

Сопоставив информацию двух карт и используя знания по социально-экономической истории России XIX в., ответьте на следующие вопросы:

1. В каких районах запашка развивалась особенно интенсивно?
2. Дайте объяснения этому явлению.
3. В историографии существует мнение о нарастающем кризисе сельского хозяйства в середине XIX в. в Европейской России. О каких его признаках можно говорить, используя информацию представленных карт? Где он проявился сильнее — в Центральном Нечерноземье или в Центральном Черноземье? Объясните различия, учитывая тот факт, что общая плотность населения в этих регионах была примерно равной.



Количество лугов в расчете на 1 десятину пашни

## Комментарии к заданиям

1.

Верно	Неверно
2, 3, 5, 7, 9, 10	1, 4, 6, 8

(За каждый правильный ответ — по одному баллу. Всего — 10 баллов.)

2. Правильные ответы: 2, 5, 6, 9, 10.

(За 3–4 правильных ответа — 1 балл; за 5 — 2 балла. При наличии двух ошибок — минус 1 балл (неверно указанные номера), при наличии трех и более ошибок ответ не оценивается. Всего — 2 балла.)

3. Ученик необязательно должен давать развернутый ответ, но в его объяснении должны присутствовать ключевые слова, выделенные для упрощения задачи проверяющего.

А. 1) История появления фразеологизма уходит во время царствования **Алексея Михайловича**. Слово «верста» тогда означало «ряд, линия, порядок». По распоряжению царя Алексея Михайловича на «столбовой» дороге между Москвой и летней царской резиденцией в селе Коломенском было заново произведено измерение расстояний и установлены **верстовые столбы такой высоты, каких на Руси еще не видывали**.

2) «Коломенская верста» — так называют высоких, длинных и худощавых людей.

4.

	Краткая Русская Правда	Пространная Русская Правда	Судебник Ивана Грозного	Соборное Уложение
Мстить (кровная месть)	+	+		
Поле (судебный поединок)			+	
Закуп		+		
Холоп	+	+	+	+
Боярин		+	+	+
Пожилое			+	
«Поместье»			+	+

(За 2–3 правильных ответа — 1 балл; за 4–5 — 2 балла; за 6–7 — 3 балла; за 8–9 — 4 балла; за 10–11 — 5 баллов; за 12–13 — 6 баллов; за 14 — 7 баллов. Всего — 7 баллов.)

(За каждый правильный ответ — по 1 баллу. Всего — 2 балла.)

Б. 1) История появления фразеологизма связана с **концом XVI в.: отменой права перехода крестьян к другому владельцу земли** (заповедные лета).

2) «Вот тебе, бабушка, и Юрьев день!» — фразеологизм, означающий разочарование, неудачу, неожиданные перемены к худшему, надежды, которые не сбылись.

(За каждый правильный ответ — по 1 баллу. Всего — 2 балла.)

В. 1) По легенде, авторство которой приписывается саксонскому дипломату Георгу Гельбигу, **потемкинские деревни** — это **бутафорские деревни**, которые якобы были выстроены по указанию князя **Потемкина** вдоль **маршрута Екатерины II** во время ее поездки в 1787 г. на **Украину** (Малороссию) — в Причерноморье и Тавриду. В недавно глухой местности императрица увидела множество строений, войска, процветающее население, расписанные избы.

2) Потемкинские деревни — фразеологизм, который означает показной блеск, мнимое благополучие, очковтирательство, миф.

(За каждый правильный ответ — по 1 баллу. Всего — 2 балла.)

(Всего — 6 баллов.)

5. Оценивается только полностью правильный ответ: 23145.  
(2 балла.)

6.

1. Операции регулярной армии в годы Великой Отечественной войны. Операция «Концерт» — лишний элемент, так как это операция, осуществленная партизанами.

2. Участники ГКЧП. А.А. Громыко — лишний элемент, так как не был участником ГКЧП.

3. Лидеры социалистических партий России в начале XX в. П.Н. Милюков (Г) — лишний элемент, так как он лидер кадетов.

4. Памятники писателям и поэтам — уроженцам Орловской губернии — *все установлены в Орле*. Н.А. Некрасов (В) — лишний элемент, так как не был уроженцем Орловщины. *Памятник Некрасову установлен в Ярославле.* (За дополнительную информацию (выделена жирным курсивом) о местах установки памятников — Орел и Ярославль — дополнительный балл.)

*новлен в Ярославле.* (За дополнительную информацию (выделена жирным курсивом) о местах установки памятников — Орел и Ярославль — дополнительный балл.)

(За полностью правильный ответ (принцип построения каждого ряда и лишний элемент с пояснением) — 1 балл. Всего — 5 баллов.)

7.

«В списках не значился» Б.Л. Васильева — оборона Брестской крепости;

«Волоколамское шоссе» А.А. Бека — Московская битва;

«Жизнь и судьба» В.С. Гроссмана — Сталинградская битва;

«Повесть о настоящем человеке» Б.Н. Полевого — подвиг Алексея Маресьева.

(За каждый правильный ответ — по 1 баллу. Всего — 4 балла.)

8.

XV в.	XVI в.	XVII в.	XVIII в.	XIX в.	XX в.
1	17	2, 3, 4, 6, 8, 18	5, 9, 16	10, 13, 14, 15	7, 11, 12, 19, 20

(За 3–4 правильных ответа — 1 балл; за 5–6 — 2 балла; за 7–8 — 3 балла; за 9–10 — 4 балла; за 11–12 — 5 баллов; за 13–14 — 6 баллов; за 15–16 — 7 баллов; за 17–18 — 8 баллов; за 19–20 — 9 баллов. Всего — 9 баллов.)

9.

Даты	Изображения	События	Обоснование
Август 1380 г.	Б	Благословение Дмитрия Ивановича Донского Сергием Радонежским	На иллюстрации — нимбы святых вокруг головы всадника и голов чернецов. Всадник подъезжает к монастырским воротам
8 сентября 1380 г.	Г	Поединок Пересвета с Челубеем	Поединок всадников изображен перед войсками, наблюдающими за его исходом
1470-е гг.	Д	Строительство Московского Кремля	Изображены стены из красного кирпича, у людей в руках строительные инструменты
1478 г.	А	Увоз вечехого колокола в Москву из Новгорода	В Кремль ввозят колокол
1480 г.	В	Стояние на Угре	Река разделяет войска, стоящие друг против друга

(За каждую полностью верно заполненную строку с обоснованием — по 2 балла. Возможно снижение на 1 балл за приблизительность датировки (не указана точная дата). Всего — 10 баллов.)



## 10.

№ марки	Подлинник или подделка	Аргументация
1	Подделка	Портрет не Терешковой, а <b>Савицкой</b> (+ 1 балл)
2	Подделка	<b>В 1980 г. марки номиналом 12 руб. не могли выпускаться</b> (+ 1 балл), кроме того, новый виток холодной войны. Совместный полет «Союз-19» и «Аполлон» в 1975 г.
3	Подлинник	Даты, номинал — все верно
4	Подлинник	Даты, номинал — все верно
5	Подделка	По дате — 1981 г. — и по смыслу высказывания очевидно, что это Брежнев, а не Горбачев
6	Подделка	В 1977 г. исполнилось 20, а не 30 лет космической эры. Считается от 1957 г. — запуск первого искусственного спутника Земли
7	Подделка	Первым космонавтом, вышедшим в открытый космос, был А. Леонов, гражданин СССР, а не США (надпись на шлеме, к тому же на русском языке!). <b>Номинал в рублях не может быть</b> (+ 1 балл)
8	Принимаются оба варианта: и подлинник, и подделка	Даты, номинал — все верно, если марку перевернуть
9	Подлинник	Даты, номинал — все верно
10	Подделка	В 1991 г. не могли еще печататься марки почты России. <b>Номинал в рублях не может быть</b> (+ 1 балл)
11	Подделка	В 1985 г. была единая Чехословакия, а не Чехия и Словакия
12	Подлинник	Даты, номинал — все верно. Еще СССР, правильный флаг

(За каждую полностью правильную строку в таблице с объяснением (принимается хотя бы одно из объяснений, например: достаточно написать, что на марке № 1 не Терешкова, чтобы это засчитывалось за правильный аргументированный ответ, оценивающийся в 1 балл) — по 1 баллу. Выделенные фрагменты в ответе или близкие по смыслу поощряются дополнительным баллом. Всего — 16 баллов.)

## 11.

№ памятника	Название (буква)	Дата	Обоснование ответа
1	В	1905	50 лет завершению обороны Севастополя
2	А	1782	100 лет воцарению Петра I
3	Ж	2006	20 лет чернобыльской трагедии
4	Н	2004	200 лет первому русскому водопроводу
5	М	1912	100 лет Отечественной войне 1812 г.
6	Д	1997	100 лет изобретению радио Поповым
7	Л	1958	Годовщина запуска первого искусственного спутника Земли
8	И	1969	25 лет трагедии в Хатыни
9	Б	1862	1000 лет основанию Древнерусского государства, призванию Рюрика и т.д.

10	К	2009	20 лет завершению войны в Афганистане (завершению вывода советских войск из Афганистана)
11	З	2009	10 лет гибели псковских десантников в Чечне (в бою у высоты 776 — можно не указывать)
12	О	2005	250 лет Московскому университету
13	Г	1983	200 лет Георгиевскому трактату (Протекторат России над Грузией)
14	Е	1914–1918	Изначально — стела «300 лет дому Романовых». Переделана в 1918 г.

*(За каждую полностью верно заполненную строку — по 1 баллу. Ответы без обоснования не учитываются. Всего — 14 баллов.)*

## 12.

1. В Центральном Черноземье прогрессирующее расширение барской запашки и растущая плотность населения привели в середине XIX в. к тому, что распахано оказалось более 50% земли. В частности, расширение запашки шло за счет сенокосов: на 1 дес. пашни их приходится менее  $\frac{1}{4}$  дес. Сходная ситуация наблюдается в Польше и Литве, однако здесь продуктивность земледелия выше (за счет более благоприятных природных условий) и кризис не ощущается так жестко. *(За каждый верно указанный регион — по 1 баллу. Всего — 3 балла.)*

2. Эта ситуация связана как с общим ростом населения (3 балла), так и с бур-

ным развитием крепостного хозяйства в барщинной форме с начала XIX в., когда появилась возможность сбыта хлеба за рубеж через черноморские порты (3 балла).

3. Несмотря на сопоставимую плотность населения, столь интенсивной распашки земель в Центральном Нечерноземье не происходит (3 балла). Это связано как с тем, что крестьянское население отчасти обеспечивало себя с помощью промыслов, так и с тем, что в Нечерноземье преобладала оброчная, а не барщинная форма эксплуатации крестьян. Соответственно, не столь выражено и наступление пашни на сенокосы (3 балла).

*(Всего — 15 баллов.)*